

به نام خدا

ریاضی دوم ابتدایی

آزمون بهمن شماره ۱

نام و نام خانوادگی:

۱- عزیزم خط های زیر را خوب نگاه کن و حدس بزن اندازه آن ها چه قدر است و بعد با خط کش آن ها را دقیق اندازه بگیر و کنار هر کدام بنویس.



حدس: سانتی متر

اندازه گیری با خط کش: سانتی متر



حدس: سانتی متر

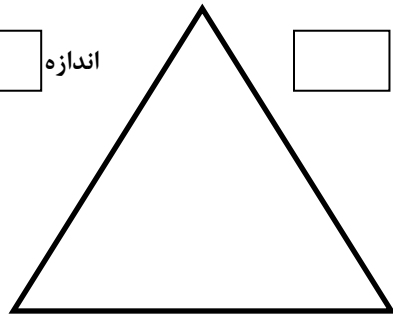
اندازه گیری با خط کش: سانتی متر

۲- ضلع های شکل زیر را با خط کش اندازه بگیر و نقطه وسط هر ضلع را پیدا کن و به هم وصل کن

اندازه

اندازه

کنید




حالا بگو چند مثلث ساخته اید؟

اندازه:

۳- الگوی زیر را ادامه دهید:



۴- به جای  عدد مناسب قرار دهید :

$$40 + \bigcirc = 93$$

$$\bigcirc + 21 = 82$$

$$15 + \bigcirc = 70$$

$$\bigcirc + 22 = 42$$

۵- به جای  عدد مناسب قرار دهید :

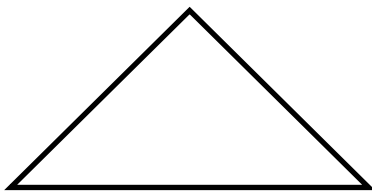
$$30 - \triangle = 12$$

$$\triangle - 15 = 30$$

$$40 - \triangle = 17$$

$$\triangle - 15 = 22$$

۶- اندازه ضلع های زیر را بنویسید و بگویید در کدام شکل جمع ضلع ها بیش تر از شکل



اندازه مجموع اضلاع :



اندازه مجموع اضلاع :

دیگر است؟

۷- علی وقتی از خانه خارج شد ساعت ۱۰:۲۵ دقیقه بود و او بعد از نیم ساعت به خانه برگشت .

علی چه ساعتی در خانه بود ؟