



۱- با توجه به شکل زیر جدول را کامل کنید.



یکان	دهگان	صدگان	هزارگان

به عدد: ..... به حروف: .....

۲- کسر مربوط به هر شکل را بنویسید.



.....

۳- یک مغازه دار نوعی کلوچه را ۵۵ تومان می خرد و ۶۰ تومان می فروشد. با رسم جدول نشان دهید فروشنده با فروش ۱۱ امین کلوچه چقدر سود می کند؟

تعداد کلوچه ها										
سود										

۴- جواب تقسیم ها و ضرب های زیر را با کمک محور به دست آورید؟



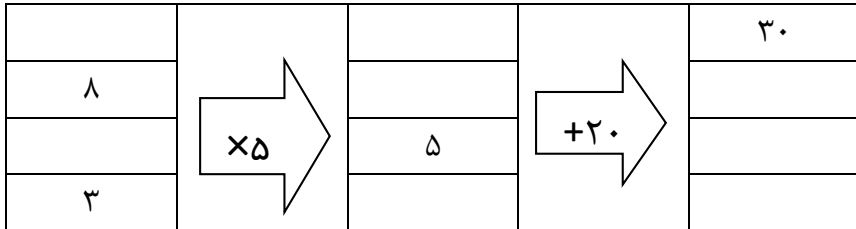
۵- در جاهای خالی عدد مناسب بنویسید.

$14 \div 2 = \square$        $4 \times 5 = \square$        $9 \times 8 = \square$        $63 \div \square = 7$

$8 \times 7 = \square \times 8$        $(9 \times 3) = (4 \times 3) + (\square \times \square)$        $7 \times 7 = \square$

۶- جدول های زیر را کامل کنید.

ساعت	۸/۱۵		۴/۳۰	
بعد از ظهر		۱۸		۲۳



ریال	۶۰۰۰		۳۰۷۰
تومان		۴۵۰	

۷- علامت (> یا < یا =) را در جای خالی قرار دهید؟

$1 \square \frac{6}{6}$

$\frac{1}{2} \square \frac{2}{5}$

$\frac{3}{4} \square \frac{4}{4}$

$\frac{3}{4} \square \frac{3}{7}$

۸- جای خالی را کامل کنید؟

وزن دفتر من برابر است با ۵۰.....

فاصله قم تا تهران برابر است با ۱۲۰.....

بهترین وسیله برای اندازه گیری زاویه راست ..... می باشد

حاصل ضرب هر عدد در ۱ برابر است با .....

۱۳۶۵ گرم برابر است با ..... کیلو و ..... گرم

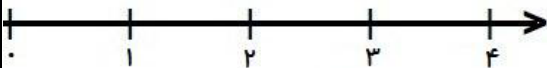
۶۴۲۸ متر برابر است با ..... کیلو متر و ..... متر

طول یک مورچه برابر است با ۱۵.....

بهترین وسیله برای رسم دایره ..... می باشد.

۹- پیمان روزی ۸ لیوان آب می خورد او در ۴ روز چند لیوان آب می خورد؟

۱۰-  $\frac{2}{3}$  واحد بعد از عدد ۱ را روی محور نشان دهید؟



اهداف مورد نظر آموزش	ن	ت	ق	خ	خ
در حل مسئله الگویی دقیق است					
ساعت در بعداز ظهر را می داند					
اعداد هزار و ارزش مکانیشان را می شناسد					
مفهوم کسر را می داند					
مفهوم ضرب را می داند					
مفهوم تقسیم را می داند					
ارزش پول را بلد است					



۱۳۹۵/۱۰/۲۹

از زیبایی نهایی: خوب خلیج خوب

نیاز به تلاش قابل قبول

